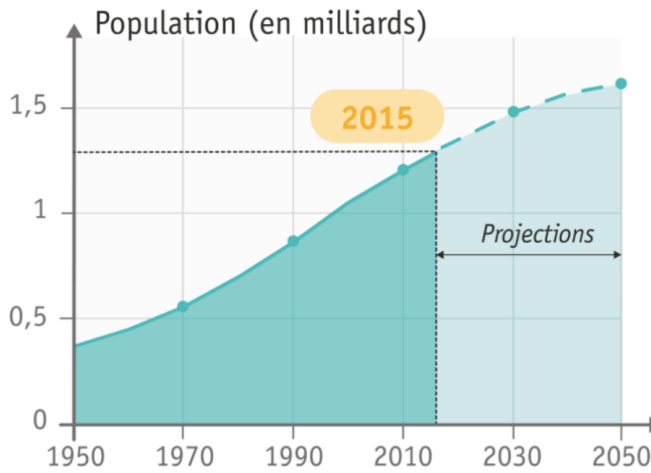


Doc. 1 : L'évolution de la population en Inde




La population mondiale en 2050 et au-delà

Les 5 pays les plus peuplés

En 2015	En 2050
Chine : 1,38 Md	Inde : 1,71 Md
Inde : 1,31 Md	Chine : 1,35 Md
États-Unis : 321,8 M	Nigeria : 398,5 M
Indonésie : 257,6 M	États-Unis : 388,9 M
Bésil : 207,8 M	Indonésie : 322,2 M
France : 64,4 M	France : 71,1 M
UE à 28 : 505,2 M	UE à 28 : 499,9 M



Évolution de la population mondiale en milliards

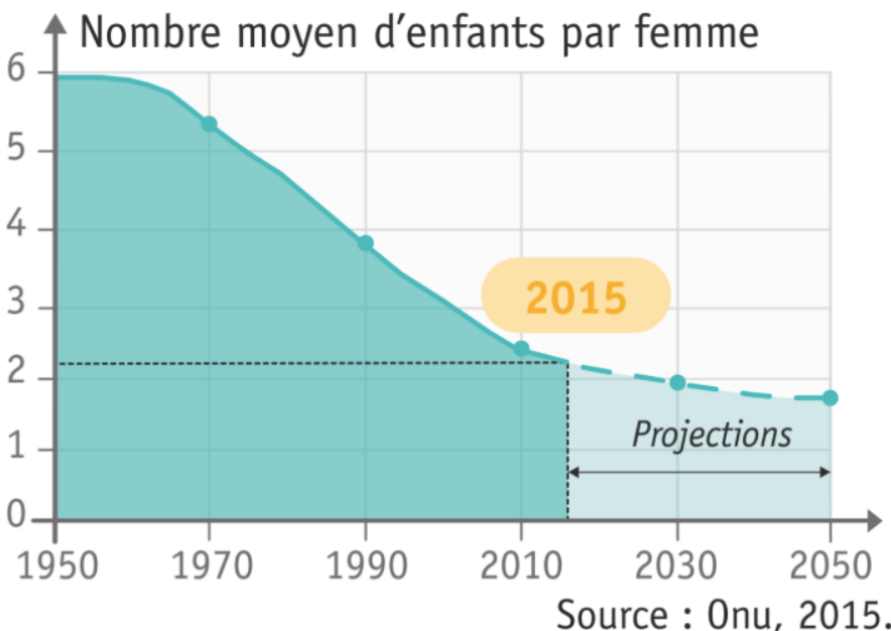


Doc. 3 : La croissance démographique indienne

Dans ce géant d'Asie qui a franchi la barre de 1,3 milliard d'habitants (...) la moitié des habitants a moins de 25 ans. Malgré 50 ans de planification familiale marquée par l'accès à des méthodes contraceptives bon marché (pilule, préservatif, stérilisation), l'Inde est loin d'avoir stabilisé sa population. En un peu plus d'un siècle, les Indiens ont vu leur nombre multiplié par 5 sous l'effet des progrès de la médecine, du recul des épidémies et de la disparition des famines.

Olivier Tallès, La Croix, juillet 2015.

Doc. 4 : Le nombre moyen d'enfants par femme

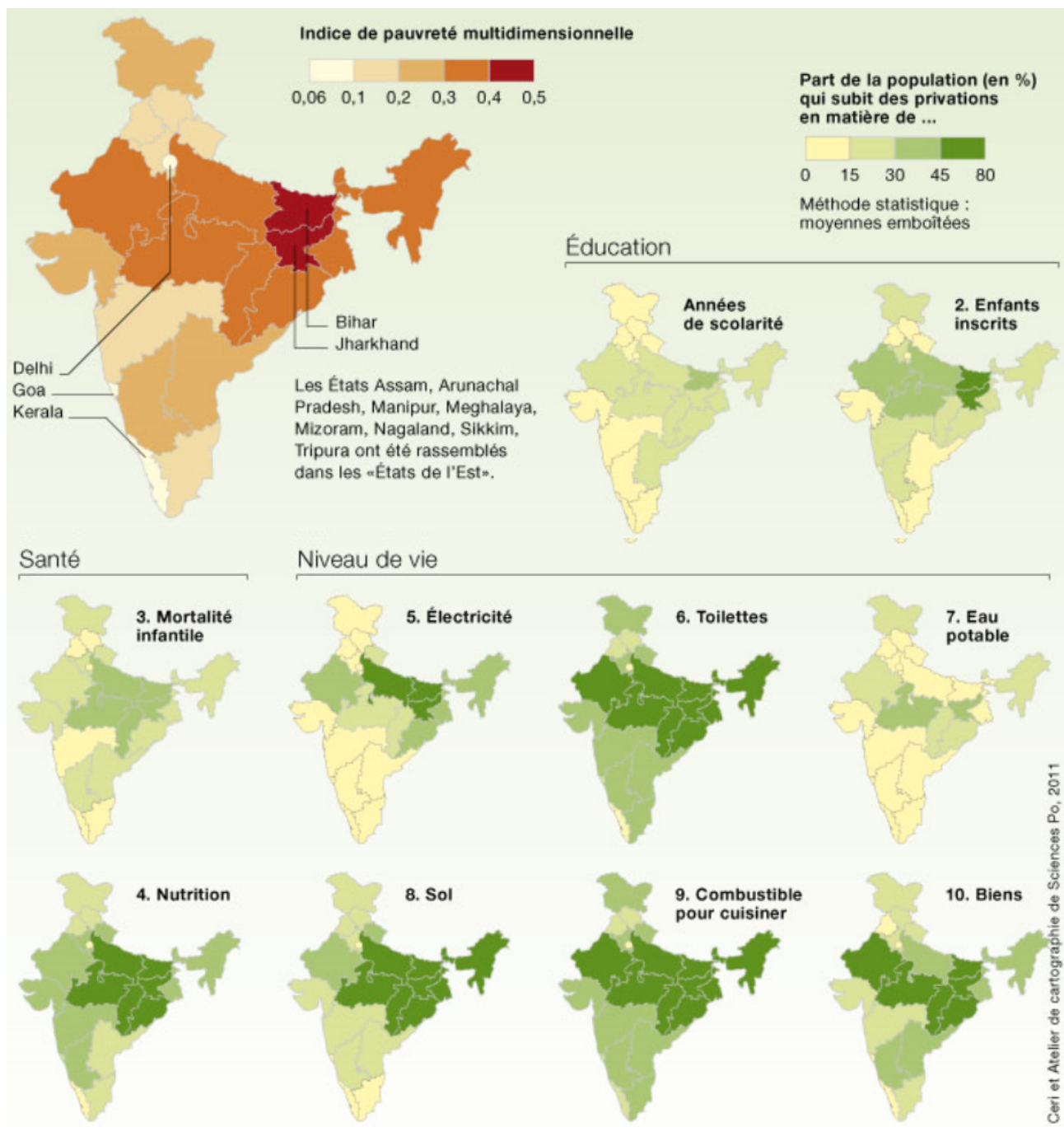


Doc. 5 : Le ralentissement de la croissance démographique

Le ralentissement de la croissance démographique est dû (...) à la politique de réduction des naissances. (...) La baisse de la fécondité est également liée à l'extension de l'éducation des filles et au développement social. En effet, les femmes sans instruction ont une fécondité de 3,6 enfants contre 1,8 pour celles qui sont très instruites. Mais la baisse de la natalité demeure inférieure aux objectifs fixés par le gouvernement.

D'après F. Landy, L'Inde ou le grand écart, Documentation Photographique, Novembre-Décembre 2007.

Doc. 6 : La pauvreté en Inde



Doc. 7 : Les embouteillages en Inde. Selon l'OMS, 13 des 20 villes les plus polluées dans le monde sont indiennes



Doc. 8 : Dans le bidonville de Dharavi, Mumbai (Inde)



Q1: Comment évolue la population indienne entre 1950 et 2015 ? J'illustre ma réponse avec des chiffres. (DOC 1)

Q2: Comment devrait-elle évoluer d'ici à 2050 ? (DOCS 1 et 2)

Q3: Qu'est ce qui explique la croissance démographique de la population indienne ? (DOC 3)

Q4: Comment expliquer le ralentissement de cette croissance ? (DOCS 4 et 5)

Q5: Quels éléments du paysage témoignent d'une croissance démographique importante ? (DOCS 7 et 8)

Q6: En utilisant le tableau suivant, je relève cinq défis que pose la croissance démographique en Inde et j'y associe un exemple précis. (Quels problèmes l'Inde devra-t-elle résoudre dans l'avenir ?)



Défi	Nom	Exemple
Défi 1		
Défi 2		
Défi 3		
Défi 4		
Défi 5		

Q7: A partir des réponses aux questions précédentes, je rédige un texte qui décrive la croissance démographique en Inde et qui explique ses effets.

Aide : Asie, croissance, démographique, développement, éducation, environnement, Inde, mortalité, natalité, pauvreté, santé, transport.

